




## إمضاء الولي:



## إمضاء الإدارة:

## النقطة:

1

أضع وأنجز.



$147 + 124$

.....

.....

.....

$865 - 452$

1

2

أصل بخط وأكمل.

$2 \times 7$

$5 \times 5$

$4 \times 5$

$7 \times 10$

$3 \times 2$

$25$

$.....$

$14$

$20$

$.....$

1.25



3 أحسب.



$9 \times 10 = .....$

$5 \times 100 = .....$

$12 \times 10 = .....$

$2 \times 30 = .....$

1

4

أنجز العمليات التالية.

$$\begin{array}{r} 142 \\ \times \quad 5 \\ \hline \end{array}$$

$$\begin{array}{r} 152 \\ \times \quad 3 \\ \hline \end{array}$$

$$\begin{array}{r} 320 \\ \times \quad 2 \\ \hline \end{array}$$



1.5

5

تحتوي علبة على 10 قطع من الشكولاتة.

أحسب عدد القطع التي تحتوي عليها 8 علب.

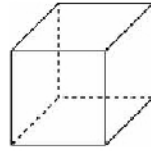
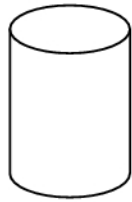
.....

.....

1

6

أ- أحيط المجسم الذي يتدرج .

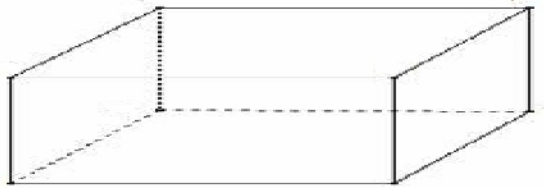


ب- أضع علامة (x) تحت المكعب.

1

7 ألاحظ الجسم ثم أكمل

1



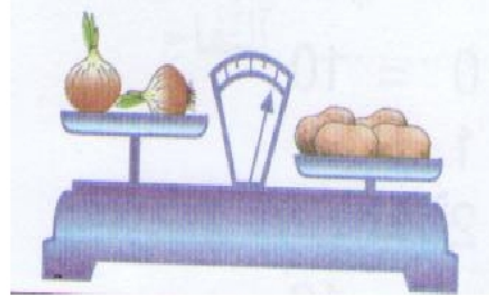
عدد رؤوسه : .....

عدد وجوهه : .....

عدد حروفه : .....

اسمه : .....

8 أكمل بما يناسب : له نفس ثقل - أخف من - أثقل من



0.75

البصل ..... البطاطس.

9 ألاحظ وأكمل

0.5



الطفل الأخف وزنا هو .....

10 أحسب كتلة الطماطم.

1

