

1- أضع وأنجز:

123×5

$836 - 214$

$224 + 379$

.....
.....
.....

2- أحسب :

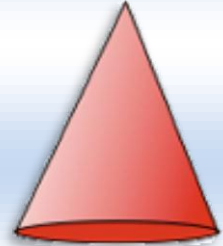
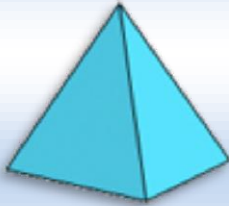
$3 \times 100 = \dots\dots$

$12 \times 10 = \dots\dots$

$3 \times 5 = \dots\dots$

$2 \times 300 = \dots\dots$

3- أصل بخط :



أحيط المجسم الذي يتدرج.

4- املا الجدول بما يناسب

المجسم	اسمه	عدد رؤوسه	عدد حروفه	عدد وجوهه

5- رتب الأشرطة التالية من الأقصر إلى الأطول :



6- ارسم قطعة قياسها 6 سنتمترات

7- املاً الفراغ بما يناسب : "أخف من " "أثقل من " "له نفس الثقل"



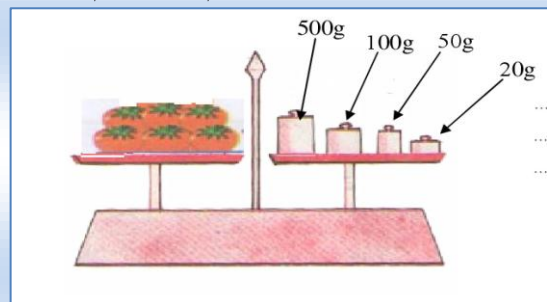
الموز الإجاصة



الإجاصة التفاحة

الفاكهة الأثقل هي

8- أحسب كتلة الطماطم بالغرام :



9- تحتوي باقة ورد على 10 وردات .

كم وردة توجد ب 5 باقات؟

.....